

VIRTUĀLAIS KONKURSS - NR.2 – UZDEVUMI

Atbildes

1. Atrisini uzdevumu?

ATRISINI UZDEVUMU NR.1

Kurš skaitlis nav ierakstīt pārējo vidū?

12	6	24
	54	30
42	48	36

18 (visi dotie skaitļi no 6 līdz 54 dalās ar 6, trūkst vienīgi 18)

2. Atrisini uzdevumu?

ATRISINI UZDEVUMU NR.2

Kurš vārds nesader ar pārējiem?

PIRKSTS	ROKA	AUSS
SIRDS	KĀJA	DEGUNS

Sirds (tā ir vienīgā ķermeņa daļa, kas atrodas ķermenī iekšā)

3. Atrisini uzdevumu?

ATRISINI UZDEVUMU NR.3

Kurš dzīvnieks neiederas starp citiem?

KAĶIS
VISTA
LIJA

ZAĶIS
KAZA
LĀCIS

ALNIS
TĪTARS

Kaza - pārējo dzīvnieku un putnu nosaukumos ir patskaņi a (ā) un i (ī)

4. Atrisini uzdevumu?

ATRISINI UZDEVUMU NR.4

Kuri divi burti jāieliek iekavās, lai tie kopā ar dotajiem pirmajiem un pēdējiem burtiem veidotu divus pastāvīgus vārdus?

VEL- (...) -ĻA

VE – velve, veļa vai *GA* – velga, gaļa

5. Atrisini uzdevumu?

ATRISINI UZDEVUMU NR.5

Kurš vārds nesader ar pārējiem?

ETMOPERT
ANBZEŪ
ZDIŅŠAR
DEOSKRONA



ADSDŪ
OFOSKASSN
LUTAFA

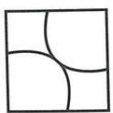

Visi vārdi apzīmē mūzikas instrumentus, taču vienīgi akordeons nav pūšamais instruments. Secība: trompete, bazūne, radziņš, akordeons, dūdas, saksofons, flauta

6. Atrisini uzdevumu?

ATRISINI UZDEVUMU NR.6

Kura figūra nav saderīga ar pārējām?

A  B 

C  D 

B – vienīgi šai figūrai nav taisnstūra leņķa

7. Atrisini uzdevumu?

ATRISINI UZDEVUMU NR.7

Izlasiet tekstu un pēc tam atbildiet uz jautājumu!

Cirka arēnā uzstājas klauns un pakrīt, visi skatītāji sāk smieties. Pēc tam, kad klauns piecēlies, viņš paklūp pār spaini, atkal visi skatītāji smejas. Beidzot klauns uzskrien virsū stabam, atkal atskan smiekli. Vienīgi Ērikam smiekli nenāk. Kāpēc?

Ēriks ir klauns

8. Atrisini uzdevumu?

ATRISINI UZDEVUMU NR.8

Kurš vārds nesader ar pārējiem?

GRĒTA GARBO

MAIKLS DUGLASS

SANDRA BULOKA

ORSONS VELSS

MERILA STRĪPA

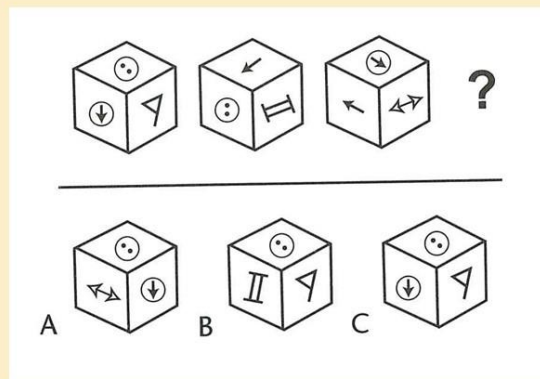
TOMS HENKSS

Grēta Garbo; viņa vienīgā no minētajiem nav dzimusi Amerikā

9. Atrisini uzdevumu?

ATRISINI UZDEVUMU NR.9

Kurš kubs ir
nākamais?



C – katru reizi kubs tiek apgāzts uz priekšu pa labi un pagriezts pa kreisi. Tādēļ pēc četrām darbībām atkal jānonāk sākuma stāvoklī.

10. Atrisini uzdevumu?

ATRISINI UZDEVUMU NR.10

Kurš skaitlis ir nākamais?

3	9	5	25	21	441	?
---	---	---	----	----	-----	---

437 ; skaitļus pamīšus reizina kvadrātā un tad atņēma 4 ($3 \times 3 = 9 - 4 = 5$, $5 \times 5 = 25 - 4 = 21$, $21 \times 21 = 441 - 4 = 437$)