

VIRTUĀLAIS KONKURSS - NR.4 – UZDEVUMI

Atbildes

1. Atrisini uzdevumu?

ATRISINI UZDEVUMU NR.1

Kurš no simboliem loģiski turpina iesākto rindu?

↑	▽	⬠	⌒ ↓	?

A ⌒→	B ∧	C ⬜	D ◯	

B (simboli sakārtoti pēc principa: smaile uz augšu, smaile uz leju, smaile uz augšu utt.)

2. Atrisini uzdevumu?

ATRISINI UZDEVUMU NR.2

Kura figūru kombinācija trūkst?

△	/	\	△		/	△
+	▽	○	⊕	+	▽	○
○	/	-		○	/	?
A	B		C			
▽	○	-	-		○	/
	/		○			

B (figūru elementi ikreiz pārvietojas par vienu vietu uz labo pusi)

3. Atrisini uzdevumu?

ATRISINI UZDEVUMU NR.3

Kurš vārds nesader ar pārējiem?

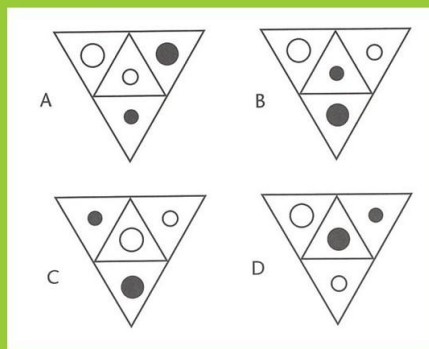
SOLO LITIJS RĪGA SECE TARTARS

Rīga – ir vienīgais vārds, kurā ir atšķirīgi patskaņi

4. Atrisini uzdevumu?

ATRISINI UZDEVUMU NR.4

Kurš no tetraedra izklājumiem nav no tā paša tetraedra kā pārējie trīs?



C

5. Atrisini uzdevumu?

ATRISINI UZDEVUMU NR.5

Kurš vārds vārdu grupā nesader ar pārējiem?

TSAIVESADS TSĀSST
A!MOHAKLO IĶĀK
AAARTTVI

AAARTTVI – “Traviata” vienīgā ir opera, pārējie ir mūzikli: “Vestsaidas stāsts”, “Oklahoma!”, “Kaķi”

6. Atrisini uzdevumu?

ATRISINI UZDEVUMU NR.6

Attieksmju uzdevums: **BUKS** pret **STIRNU** tāpat kā ...

- a) ... **PUPUĶIS** pret **PAIPALU**
- b) ... **LAUVA** pret **TĪĢERI**
- c) ... **VĪRIETIS** pret **SIEVIETI**
- d) ... **ROZE** pret **ROZMARĪNU**

C – (buks ir vīriešu kārtas, bet stirna sievietes, tādēļ šeit ir runa par vienas sugas abiem dzimumiem (cilvēkiem vīrietis un sieviete))

7. Atrisini uzdevumu?

ATRISINI UZDEVUMU NR.7

Kāds vārds jāraksta iekavās?

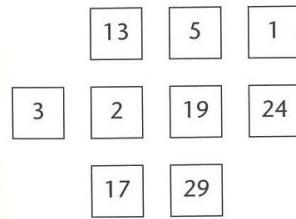
NOKRIŠŅI (SNIEGS) PADOS
PURVA ŪDENS (...) PLĒSA

RĀVA – (vārds iekavās ir sinonīms abiem vārdiem ārpus iekavām)

8. Atrisini uzdevumu?

ATRISINI UZDEVUMU NR.8

Kurš skaitlis nesader ar pārējiem?



24 – visi pārējie ir pirmskaitļi (skaitļi, kuri dalās ar sevi un 1)

9. Atrisini uzdevumu?

ATRISINI UZDEVUMU NR.9

Atbildi uz jautājumu

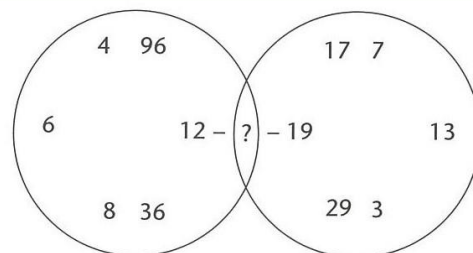
Gabriēlai ir divreiz vairāk grāmatu nekā Gertam. Viņiem abiem kopā ir 24 grāmatas. Cik daudz grāmatu ir Gertam?

8 grāmatas

10. Atrisini uzdevumu?

ATRISINI UZDEVUMU NR.10

Kāds skaitlis būtu piederīgs abiem skaitļu apliem?



2 – skaitļi pa kreisi ir pāra skaitļi, bet skaitļi pa labi – pirmskaitļi, 2 ir vienīgais pāra pirmaskaitlis